

Переводная контрольная работа по биологии 7 класс

1.1 Подпишите названия объектов, используя слова из предложенного списка: *растения, грибы, вирусы.* (1 б.)

А _____

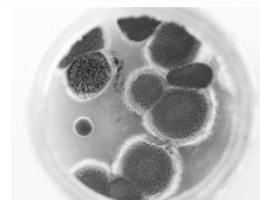
Б _____

В _____



А. _____ Б. _____

1.2 Два из изображенных на фотографиях объекта объединены общим признаком. Выпишите название объекта, «выпадающего» из общего ряда. Объясните выбор. (2 б.)



В. _____

1.3 Опишите организм под буквой В по плану: б.)

- тип питания (автотроф или гетеротроф)
- Прокариот/эукариот
- ограниченный/неограниченный рост

2. Вы собрали растения для гербария. Для каждого растения необходимо составить «паспорт». Используя список терминов составьте систематическое положение растения. (2 б.)

- 1) Ландыш
- 2) Однодольное
- 3) Растения
- 4) Ландыш майский
- 5) Покрытосеменные

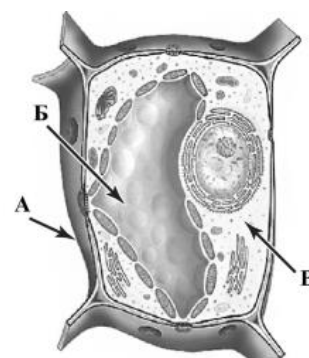


Царство	Отдел	Класс	Род	Вид

3.1 Какая часть клетки обозначена буквой А на рисунке? (1 б.)

3.2 Напишите функцию этой части. _____

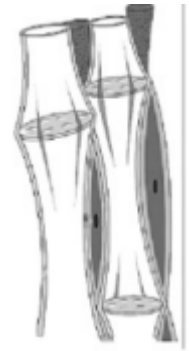
_____ (1 б.)



4. Основным запасным веществом растений является (1 б.)

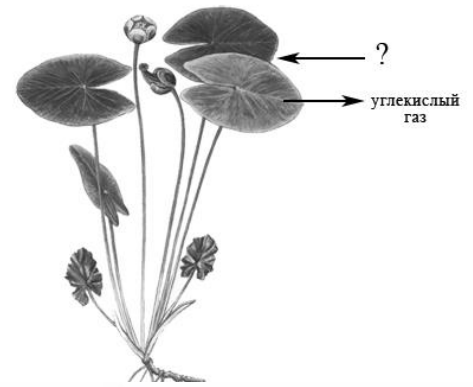
а) крахмал б) гликоген в) целлюлоза в)
глюкоза

5. К какому типу тканей относится изображенный объект? (1 б.)



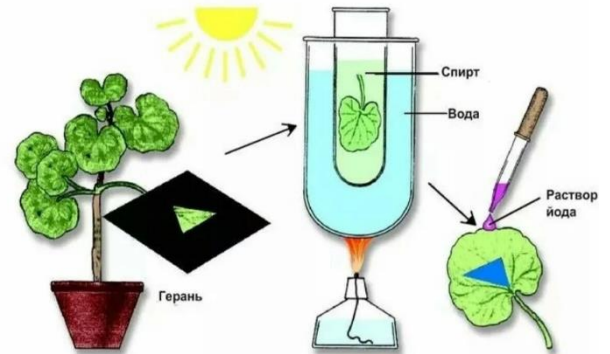
6. Какое вещество обозначено знаком вопрос? (1 б.)

- а) водород
- б) кислород
- в) вода
- г) свет



7. Если капнуть на обесцвеченный лист из-под трафарета йодом, часть листа поменяет цвет на фиолетовый. Какие признаки жизни представлены в опыте? (1 б.)


- а) питание
- б) дыхание
- в) выделение органических веществ
- г) фотосинтез



8.1 Подпишите объекты живой природы, используя названия: *зеленые водоросли, папоротники, покрытосеменные, голосеменные.* (1 б.)



А. _____



Б. _____



В. _____



Г. _____

8.2 Три из изображённых объектов объединены общим признаком. Выпишите название объекта, «выпадающего» из общего ряда. Объясните свой выбор. (2 б.)

Практическое задание

1. Рассмотрите рисунок.
2. Опишите растение по плану. (4 б.)



План	Описание
1. Тип стебля одревесневающий/неодревесневающий.	
2. Лист простой или сложный	
3. Лист сидячий или черешковый.	
4. Жилкование листа.	

Итого за работу 26 баллов